

PREFEITURA MUNICIPAL DE ADUSTINA, (BA).

EDITAL N.º 01-2024 – CONCURSO PÚBLICO.

PROVA OBJETIVA.

CARGO: MÉDICO CLÍNICO GERAL DA ATENÇÃO PRIMÁRIA.

Leia atentamente as INSTRUÇÕES:

1. Não será permitido ao candidato realizar as provas usando óculos escuros (exceto para correção visual, ou fotofobia, desde que informe no ato da inscrição), ou portando aparelhos eletrônicos (mesmo desligados), qualquer tipo de relógio, chaves, carteira, bolsa, acessórios que cubram o rosto, a cabeça, ou parte desta.
2. Será eliminado deste Concurso Público, o candidato que fizer uso do celular e/ou aparelho eletrônico, no local onde está ocorrendo o mesmo; o candidato cujo celular e/ou aparelho(s) eletrônico(s), mesmo desligado(s), emitir(em) qualquer som, durante a realização das provas. Durante todo o tempo em que permanecer no local, onde ocorre o Concurso Público, o candidato deverá manter o celular desligado, sendo permitido ativá-lo, somente após ultrapassar o portão de saída do prédio.
3. **Sob pena de ser eliminado deste Concurso Público**, o candidato poderá manter em cima da sua carteira apenas lápis, borracha, caneta, um documento de identificação, lanche (exceto líquido). **Outros pertences**, antes do início das provas, o candidato deverá acomodá-los **embaixo de sua cadeira**, sob sua guarda e responsabilidade.
4. Confira se a sua prova tem **50** questões, cada qual com **5 alternativas**, veja se o cargo para o qual se inscreveu está correto.
5. Verifique seus dados no cartão-resposta (nome, número de inscrição e o cargo para o qual se inscreveu) e **ASSINE** o mesmo.
6. Preencha toda a área do cartão-resposta correspondente à alternativa de sua escolha, com caneta esferográfica (tinta azul, ou preta), sem ultrapassar as bordas. As marcações duplas, rasuradas, ou marcadas diferentemente do modelo estabelecido no cartão-resposta, serão anuladas.
7. Observe as orientações apresentadas no cartão-resposta. O mesmo não será substituído, salvo se contiver erro de impressão.
8. Aguarde a autorização do fiscal para abrir o caderno de provas. Ao receber a ordem, confira-o com muita atenção. Nenhuma reclamação sobre o total de questões, ou falha de impressão, será aceita depois de iniciada a prova. Cabe apenas ao candidato a interpretação das questões, o fiscal não poderá fazer nenhuma interferência.
9. A Prova Objetiva terá duração máxima de **3h (três horas)**, incluso o tempo destinado ao preenchimento do cartão-resposta.
10. O candidato poderá se retirar do local da prova somente **1h (uma hora)** após seu início, levando seu caderno de prova.
11. Ao terminar sua prova, o candidato deverá entregar ao fiscal de sala o cartão-resposta preenchido, assinado e retirar-se do recinto, onde está ocorrendo a mesma, não lhe sendo mais permitido o uso do banheiro e bebedouro.
12. Os **3 (três)** candidatos, que terminarem a prova por último, deverão permanecer na sala, só poderão sair juntos, após o fechamento do envelope, contendo os cartões-respostas dos candidatos presentes e ausentes, assinarem no referido envelope, atestando que este foi devidamente lacrado.

BOA PROVA!

LÍNGUA PORTUGUESA.

Leia o texto para responder às próximas cinco questões.

Detalhes. (Roberto Carlos).

Não adianta nem tentar me esquecer,
Durante muito tempo em sua vida
Eu vou viver.
Detalhes tão pequenos de nós dois,
São coisas muito grandes pra esquecer
E a toda hora, vão estar presentes,
Você vai ver.
Se um outro cabeludo aparecer na sua rua
E isto lhe trouxer saudades minhas,
A culpa é sua.
O ronco barulhento do seu carro,
A velha calça desbotada, ou coisa assim,
Imediatamente você vai lembrar de mim.
Eu sei que um outro deve estar falando ao seu ouvido,
Palavras de amor como eu falei, mas eu duvido,
Duvido que ele tenha tanto amor
E até os erros do meu português ruim
E nessa hora você vai lembrar de mim.
À noite, envolvida no silêncio
Do seu quarto,
Antes de dormir, você procura
O meu retrato,
Mas da moldura não sou eu quem lhe sorri,
Mas você vê o meu sorriso mesmo assim
E tudo isso, vai fazer você
Lembrar de mim.
Se alguém tocar seu corpo como eu,
Não diga nada,
Não vá dizer meu nome, sem querer,
À pessoa errada,
Pensando ter amor nesse momento,
Desesperada você tenta até o fim,
E até nesse momento, você
Vai lembrar de mim.
Eu sei que esses detalhes vão sumir
Na longa estrada,
Do tempo que transforma todo amor
Em quase nada,
Mas quase também é mais um detalhe.
Um grande amor, não vai morrer assim,
Por isso, de vez em quando, você vai,
Vai lembrar de mim.
Não adianta nem tentar me esquecer,
Durante muito, muito, muito tempo, em sua vida,
Eu vou viver.
Não, não adianta nem tentar,
Me esquecer.

01. Com base na leitura do texto, marque a alternativa incorreta.

- a) De acordo com o texto, o eu poético relata que os detalhes pequenos dos dois, são coisas muito grandes para esquecer.
- b) O eu poético fala, que se alguém aparecer e a pessoa tiver saudades dele, a culpa será só dela.
- c) O eu lírico afirma para seu ente amado, que não adianta nem tentar esquecê-lo e que durante muito tempo em sua vida, ele viverá.
- d) Pela leitura do texto, entende-se que mesmo um grande amor é capaz de morrer e que a pessoa amada, nunca mais se lembrará do eu lírico.
- e) Referindo-se à leitura do texto, fica claro, o autor no final, afirmar: “Durante muito, muito, muito tempo, em sua vida, eu vou viver.

02. Em se tratando de encontros vocálicos, as palavras do texto (muito, saudades, noite) são respectivamente:

- a) Hiato, hiato, hiato.
- b) Ditongo, ditongo, ditongo.
- c) Ditongo, ditongo, hiato.
- d) Hiato, hiato, ditongo.
- e) Hiato, ditongo, ditongo.

03. No período do texto “Detalhes tão pequenos de nós dois / São coisas muito grandes pra esquecer / E a toda hora vão estar presentes”. A oração grifada é:

- a) Coordenada assindética.
- b) Coordenada sindética explicativa.
- c) Coordenada sindética adversativa.
- d) Coordenada sindética conclusiva.
- e) Coordenada sindética aditiva.

04. Marque a alternativa devida, de acordo com a correta separação de sílabas, das palavras do texto, (ouvido, silêncio, coisas).

- a) Ou-vi-do / si-lên-ci-o / coi-sas.
- b) O-u-vi-do / si-lên-ci-o / coi-sas.
- c) Ou-vi-do / si-lên-cio / coi-sas.
- d) Ou-vi-do / si-lên-cio / co-i-sas.
- e) O-u-vi- do / si-lên- ci-o / co-i-sas.

05. De acordo com o texto, pode-se compreender que a expressão “desesperada” significa:

- a) Consolada.
- b) Esperançosa.
- c) Confiante.
- d) Abalada.
- e) Aliviada.

06. Quanto ao correto uso do hífen, marque a alternativa indevida.

- a) Anti-higiênico.
- b) Auto-observação.
- c) Auto-suficiente.
- d) Pan-africano.
- e) Bem-arrumado.

07. Em sintaxe, quanto aos termos da oração, relacione a Coluna I com a Coluna II e marque a alternativa devida.

Coluna I.

- A- Agente da passiva.**
- B- Adjunto adnominal.**
- C- Sujeito.**
- D- Predicativo.**

Coluna II.

1- É o elemento do predicado com o qual se atribui qualidade ou estado ao sujeito ou ao objeto, mediante verbo de ligação ou não.

2- É a parte da oração sobre a qual se declara alguma coisa.

3- É a expressão que se refere a um substantivo, determinando-o ou caracterizando-o.

4- É o termo que se refere a um verbo na voz passiva, com auxílio de preposição.

a) A (1) – B (2) – C (4) – D (3).

b) A (3) – B (4) – C (2) – D (1).

c) A (4) – B (3) – C (2) – D (1).

d) A (2) – B (1) – C (3) – D (4).

e) A (3) – B (4) – C (1) – D (2).

08. Aludindo-se à versificação, leia os itens, veja os tipos de rima e assinale a alternativa correspondente.

I- Aguda: entre palavras oxítonas, ou monossílabas tônicas.

II- Grave: entre palavras paroxítonas.

III- Esdrúxula: entre palavras proparoxítonas.

IV- Perfeita: igualdade total entre sons vocálicos e consonantais.

a) Apenas I e IV estão corretos.

b) Apenas II e IV estão corretos.

c) Apenas I, II e III estão corretos.

d) Todos os itens estão corretos.

e) Apenas II e III estão corretos.

09. Sobre Língua Materna, marque (V) verdadeiro ou (F) falso e assinale a alternativa correta.

() Língua Materna: A expressão vem de uma época quando as crianças eram alfabetizadas maioritariamente em casa, pelas mães.

() É a primeira língua que a criança aprende, podendo ser chamada também de língua nativa e corresponde ao grupo étnico-linguístico que a criança se identifica culturalmente.

() O falante nativo, ou de língua materna, possui uma forte ligação cultural e de identidade com sua comunidade e meio.

() Ser um falante nativo, significa ser linguisticamente próximo a outros falantes, à língua comum de qualquer comunidade, seja de uma família, cidade, tribo, povoado, região, ilha, país.

() Com relação a competência do falante nativo, ele tem noção de automaticidade, sendo totalmente capaz de assimilar de forma automática e familiar, todos os recursos estruturais do código linguístico.

a) V – F – V – F – V.

b) V – V – F – F – V.

c) V – F – V – V – F.

d) V – V – V – V – V.

e) F – V – V – V – F.

10. Em se tratando de representante e escola literária, marque a alternativa incorreta.

a) Visconde de Taunay, (Romantismo).

b) Machado de Assis, (Realismo).

c) Raimundo Correia, (Parnasianismo).

d) Cruz e Sousa, (Simbolismo).

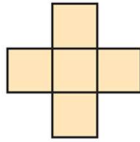
e) Joaquim Manuel de Macedo, (Naturalismo).

MATEMÁTICA E RACIOCÍNIO LÓGICO.

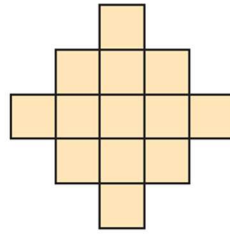
11. Considere a seguinte sequência de figuras, ela começa por um quadrado. Então, em cada etapa, quadrados são fixados ao redor da parte externa da figura.



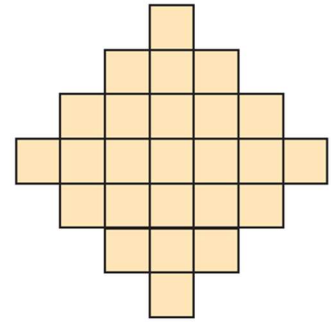
Etapa 1



Etapa 2



Etapa 3



Etapa 4

Com base no padrão observado nessa sequência de figuras, qual o número de quadrados na figura da Etapa 7?

- a) 53.
- b) 61.
- c) 79.
- d) 85.
- e) 113.

12. Considere a seguinte proposição: **Se não chover, então Dona Florinda rega as plantas.** Qual a negação dessa proposição?

- a) Se chover, então, Dona Florinda rega as plantas.
- b) Se chover, então, Dona Florinda não rega as plantas.
- c) Se não chover, então, Dona Florinda não rega as plantas.
- d) Chove e Dona Florinda rega as plantas.
- e) Não chove e Dona Florinda não rega as plantas.

13. Considere a sequência, formada pelas letras da palavra **ADUSTINENSE**, nessa ordem. **ADUSTINENSEADUSTINENSEADUSTINENSE...**

Qual é a 158ª letra dessa sequência?

- a) D.
- b) U.
- c) S.
- d) T.
- e) E.

14. De acordo com os resultados divulgados do Censo de 2022 pelo Instituto Brasileiro de Geografia e Estatística, (IBGE), a população da Cidade de Adustina, (BA), chegou a 14.201 habitantes, em 2022. Ainda, segundo o IBGE, em 2022, a área do Município era de 629,099 km², o que o coloca na posição 241 de 417 entre os municípios do Estado da Bahia.

Disponível em: <https://cidades.ibge.gov.br/brasil/ba/adustina/panorama>. Acesso em: 12 fev. 2024.

A densidade demográfica é um indicador populacional que mede a relação entre a população absoluta e a extensão territorial. Para medir a concentração da população de determinada área, calcula-se sua densidade demográfica: divide-se o total da população pela área territorial. Esse valor é expresso pelo número de habitantes por quilômetro quadrado (hab./km²). Assim, a partir dos dados apresentados pelo IBGE, a densidade demográfica de Adustina, (BA), em 2022, era de:

- a) 18,40 hab./km².
- b) 20,55 hab./km².
- c) 22,57 hab./km².
- d) 24,75 hab./km².
- e) 28,52 hab./km².

15. A reta r passa pelo ponto $(6,4)$ e tem coeficiente angular igual a $3/2$. O ponto de intersecção da reta r com o eixo OY tem ordenada igual a:

- a) -5 .
- b) -3 .
- c) -1 .
- d) 0 .
- e) 1 .

16. Uma lata de doce de coco cremoso tem formato cilíndrico, com 9 cm de diâmetro e 10 cm de altura. Qual é, aproximadamente, a capacidade dessa lata?

Use 3,14 como aproximação para π .

- a) $500,25 \text{ cm}^3$.
- b) $540,75 \text{ cm}^3$.
- c) $600,80 \text{ cm}^3$.
- d) $635,85 \text{ cm}^3$.
- e) $675,50 \text{ cm}^3$.

17. Um quadrado mágico é uma tabela quadrada de números em que a soma (soma mágica ou constante mágica) dos números de cada linha, cada coluna e nas duas diagonais é sempre igual, sendo que nenhum dos números se repete. Um quadrado mágico de ordem 3 pode ser formado a partir dos nove termos de uma Progressão Aritmética (P.A.). No quadrado mágico de ordem 3, o termo central do quadrado corresponde ao termo médio da P.A. Considere a P.A. $(3, 8, \dots)$ de nove termos, que será usada para formar um quadrado mágico de ordem 3. Na metade da primeira linha do quadrado mágico, escreve-se número 3 (primeiro termo da P.A.) e na casa mais baixa da terceira coluna, escreve-se o número 8 (segundo termo da P.A.), como mostrado a seguir.

	3	
x		
		8

Adaptado de: Revista do Professor de Matemática. PAINEL IV. BARROS, Augusto M. de. O Método Hindu para a construção de quadrados mágicos. RPM n.º 103, 1º semestre, ano 40, 2021, p. 17-20.

Sabendo-se que no quadrado mágico de ordem 3 apresentado, a constante mágica é igual a 69. Qual número deve ocupar a casa identificada pela letra x?

- a) 13.
- b) 23.
- c) 33.
- d) 28.
- e) 38.

18. Considere a Progressão Geométrica infinita $(8, 6, \dots)$. A soma dos infinitos termos dessa Progressão Geométrica converge para:

- a) 21.
- b) 24.
- c) 28.
- d) 32.
- e) 36.

19. Um poliedro convexo tem uma face pentagonal e cinco faces triangulares. Se esse poliedro possui 6 vértices, então o número de arestas desse poliedro é:

- a) 6.

- b) 8.
- c) 10.
- d) 12.
- e) 14.

20. Quantos são os anagramas da palavra BAHIA, que iniciam e terminam por vogal?

- a) 12.
- b) 18.
- c) 24.
- d) 36.
- e) 60.

LEGISLAÇÃO BÁSICA E CONHECIMENTOS GERAIS.

21. Verifique o recorte da notícia a seguir e, de acordo com a referida notícia, assinale a alternativa que completa corretamente a lacuna.

“Após falha no site do [...], aprovados 'perdem' vaga no dia seguinte: 'Já tinha comemorado nas redes', diz aluna.

Resultados foram divulgados na terça-feira, (30), mas site do [...] saiu do ar. MEC alegou "falha técnica" e adiou a publicação. No dia seguinte, alunos que achavam que tinham passado, ficaram de fora da lista final.

Na manhã de terça-feira, (30), Khauany Freitas, de 18 anos, entrou no site do _____ e viu a mensagem com que tanto sonhava: "Parabéns, você foi selecionada na chamada regular".

[...]
Até que houve uma reviravolta: assim como outros candidatos, por um erro do Ministério da Educação, (MEC), Khauany "perdeu" a vaga no dia seguinte.

Disponível em: <https://g1.globo.com/educacao/noticia/2024/02/01/apos-falha-no-sisu-aprovados-perdem-vaga-no-dia-seguinte-ja-tinha-comemorado-nas-redes-diz-aluna.ghtml>

Publicada em: 01 fev. 2024.

- a) Sistema de Seleção Unificada, (Sisu)
- b) Sistema de Substituição Unificada, (Sisu)
- c) Sistema de Segmento Unificado, (Sisu)
- d) Seleção de Sujeitos Universitários, (Sisu)
- e) Sistema Semântico de Universitários, (Sisu)

22. Realize a leitura do trecho da notícia publicada no dia 22 de outubro de 2023 pelo site UOL: Raicca Ventura acerta a última volta e conquista prata no skate do Pan 2023.

[...]
Aos 16 anos, Raicca Ventura conquistou a medalha de prata no skate park nos _____ . A brasileira sofreu com quedas nas primeiras tentativas e alcançou sua melhor nota na volta final.

Disponível em: <https://www.uol.com.br/esporte/ultimas-noticias/2023/10/22/final-skate-park-feminino.htm>

Segundo a referida notícia a medalha de prata no skate park foi conquistada nos:

- a) Jogos Pan-Americanos de Lima
- b) Jogos Pan-Americanos de Santiago
- c) Jogos Pan-Americanos de Toronto
- d) Jogos Pan-Americanos de Guadalajara
- e) Jogos Pan-Americanos de Porto Rico

23. Leia o fragmento de notícia disponível na página da BBC News Brasil e marque a alternativa que completa, corretamente, a lacuna.

“A combinação climática que está secando os rios da Amazônia

[...]

As cenas são chocantes. Rios e igarapés secos e fumaça de queimada subindo pelo céu amazônico.

Manaus, capital do Amazonas encravada no meio da floresta, ficou recentemente encoberta por uma nuvem espessa de fumaça causada por queimadas no entorno da cidade.

A pouco mais de 500 quilômetros dali, _____ assustam e preocupam moradores.

Cientistas, ambientalistas e representantes do governo federal avaliam que esses dois eventos podem ter relação com um fenômeno que vem preocupando a comunidade científica e os milhões de habitantes da região: a estiagem severa que atinge a Amazônia, especialmente a chamada Amazônia Ocidental, composta pelos Estados do Amazonas, Rondônia, Acre e Roraima”.

Disponível em: <https://www.bbc.com/portuguese/articles/c0405z32d13o>

Publicada em: 16 out. de 2023.

- a) carcaças de peixes espalhadas pelo leito seco do Rio Acaraú na capital do Amazonas
- b) carcaças de peixes no leito seco da Lagoa dos Tambaquis na capital do Amazonas
- c) carcaças de botos espalhadas pelo Rio Capibaribe
- d) carcaças de botos espalhadas pelo leito seco do Rio Punaú
- e) carcaças de botos espalhadas pelo leito seco de um lago no interior da Amazônia

24. De acordo com o site do Instituto Brasileiro de Geografia e Estatística, (IBGE), Adustina, (BA), está localizada na Mesorregião:

- a) Centro Ocidental.
- b) Leste Alagoano.
- c) Nordeste Baiano.
- d) Centro Sul Baiano.
- e) Centro Norte Baiano.

25. Leia o seguinte texto.

“Ao pé de uma ladeira íngreme de pedras irregulares, circundado por mangueiras imponentes, banhado pelas ondas do mar e premiado pelo mais belo pôr do sol da cidade de Salvador. É neste belíssimo cartão postal chamado Solar do Unhão que se encontra o [...], considerado o principal espaço para a arte contemporânea do estado e um dos mais importantes do país, por onde passa um público aproximado de 200 mil pessoas por ano”.

Disponível em: <http://www.mam.ba.gov.br/sobre-o-mam/>

O nome do Museu, de acordo com o texto é:

- a) Museu de Arte Moderna da Bahia, (MAM-BA).
- b) Museu dos Artistas Modestos da Bahia, (MAM-BA).
- c) Museu de Arte Niemeyer da Bahia, (MAN-BA).
- d) Museu de Arte Contemporânea da Bahia, (MAC-BA).
- e) Museu Artístico Mário Quintana da Bahia, (MAM-BA).

26. De acordo com o art. 5º , da Lei Orgânica do Município de Adustina, (BA), Capítulo III, Dos Bens Municipais, são bens municipais:

I- Apenas bens móveis de seu domínio pleno, direto ou útil;

II- Direitos e ações que a qualquer título pertençam ao município;

III- Águas fluentes, emergentes e em depósito, localizadas em seu território e nos territórios das cidades vizinhas;

IV- Renda proveniente do exercício de suas atividades e da prestação de serviços.

Assinale a alternativa verdadeira.

- a) Todas as assertivas estão corretas.
- b) Apenas as assertivas I, II e III estão corretas.
- c) Apenas as assertivas II, III e IV estão corretas.
- d) Apenas as assertivas II e IV estão corretas.
- e) Apenas as assertivas III e IV estão corretas.

27. Segundo o art. 11 da Lei Orgânica do Município de Adustina, (BA), é da competência do Município em comum com a União e o Estado:

- () Zelar pela guarda da Constituição Federal, da Constituição Estadual e das Leis destas esferas de Governo, das instituições democráticas e conservar o patrimônio público;**
- () Cuidar da saúde e assistência pública, da proteção e garantia das pessoas portadoras de deficiência;**
- () Proteger os documentos, as obras e outros bens de valor histórico, artístico e cultural, os monumentos, as paisagens naturais notáveis e os sítios arqueológicos;**
- () Impedir a evasão, destruição e a descaracterização de obras de arte e de outros bens de valor histórico, artístico e cultural.**

Conforme a referida Lei Orgânica atribua (C) para certo e (E) para errado, depois assinale a alternativa com a sequência correta.

- a) C – C – C – C.
- b) C – E – C – C.
- c) E – C – C – E.
- d) C – C – E – E.
- e) E – E – E – E.

28. Assinale a alternativa que compõe todos os fatores descritos no art. 20, da Lei Complementar n.º 211, de 18 de Abril de 2016, que cria o Novo Estatuto dos Servidores Públicos Cíveis do Município de Adustina e dá outras providências:

“Ao entrar em exercício, o servidor nomeado para cargo de provimento efetivo ficará sujeito a estágio probatório por período de 03 (três) anos, durante o qual a sua aptidão e capacidade serão objeto de avaliação para o desempenho do cargo, observados os seguinte fatores:”

- a) Assiduidade, disciplina, comportamento eficaz e produtividade.
- b) Conhecimento, disciplina, capacidade de agrupamento e responsabilidade.
- c) Assiduidade, habilidade emocional, capacidade comportamental e produtividade.
- d) Assiduidade, flexibilidade, capacidade de iniciativa, produtividade e proatividade.
- e) Assiduidade, disciplina, capacidade de iniciativa, produtividade e responsabilidade.

29. De acordo com a Lei Complementar n.º 211, de 18 de Abril de 2016, que cria o Novo Estatuto dos Servidores Públicos Cíveis do Município de Adustina e dá outras providências, relacione as colunas e escolha a alternativa com a ordem correta.

Coluna I.

A- Readaptação.

B- Reversão.

C- Reintegração.

Coluna II.

1- () É a reinvestidura do servidor estável no cargo anteriormente ocupado, ou no cargo resultante de sua transformação, quando invalidada a sua demissão por decisão administrativa ou judicial, com ressarcimento de todas as vantagens.

2- () O retorno à atividade de servidor aposentado.

3- () É a investidura do servidor em cargo de atribuições e responsabilidades compatíveis com a limitação, que tenha sofrido em sua capacidade física ou mental, verificada através de relatório de um médico especialista da área e de um médico do trabalho.

- a) A (1) – B (3) – C (2).
- b) A (3) – B (2) – C (1).
- c) A (2) – B (1) – C (3).
- d) A (3) – B (1) – C (2).
- e) A (1) – B (2) – C (3).

30. Levando em consideração a Lei n.º 1, de 14 de setembro de 2022, que dispõe sobre a Reestruturação Organizacional do Poder Executivo do Município de Adustina e dá outras providências, assinale a alternativa que não está de acordo com o estipulado na referida Lei.

- a) Art. 1º: O objetivo desta Lei é a reestruturação político-administrativa do Poder Executivo do

Município de Adustina, a fim de aperfeiçoar a gestão e os serviços públicos, principalmente, através da reconfiguração dos órgãos, cargos, funções e diretrizes normativas.

b) Art. 2º: O Poder Executivo é chefiado pelo Prefeito do Município, que o administra na forma da lei, auxiliado pelo Vice-Prefeito, secretários, e demais agentes públicos municipais, no exercício das suas respectivas atribuições e competências.

c) Art. 3º: A Administração Municipal, para efeito desta Lei, compreende a administração direta e a indireta, que venha a ser criada por lei específica.

d) Art. 6º: Os dirigentes dos órgãos subordinados diretamente ao Prefeito do Município, devem promover, após a primeira quinzena do mês de agosto de cada ano, a elaboração do Plano de Metas para o Ano de exercício - PMA, planejando o conjunto de ações a serem executadas no próximo ano, assim como o Relatório dos Resultados Alcançados do Ano em curso - RRA, identificando o que efetivamente foi realizado, divulgando-os parcialmente, na forma de regulamento próprio.

e) Art. 7º: Todos os órgãos do Município devem atuar de forma articulada entre si, em regime de mútua colaboração, visando a oferecer informações, sugestões e dados que melhorem a prestação dos serviços.

CONHECIMENTOS ESPECÍFICOS.

31. Em relação aos pacientes portadores de Hipertensão Arterial Sistêmica sem complicações, qual dos itens não se enquadra nos exames complementares indicados para acompanhamento de rotina?

- a) Análise de urina.
- b) Glicemia de jejum.
- c) Hemoglobina glicosilada.
- d) Eletrocardiograma convencional.
- e) PCR e/ou VHS.

32. Durante a consulta, o método utilizado na construção do prontuário, para simplificar e organizar a anamnese, exame físico, avaliação de exames complementares e plano estabelecido pelo médico é o Registro Clínico Orientado por Problema, (RCOP). Sendo assim, o exame físico e resultado de exames laboratoriais se encaixam em qual parte do prontuário, de acordo com o RCOP?

- a) Subjetivo.
- b) Objetivo.
- c) Avaliação.
- d) Diagnóstico.
- e) Plano.

33. Desde a introdução do SUS, diversos instrumentos foram implantados e são utilizados na Atenção Básica, como forma de garantir o princípio do enfoque familiar e comunitário do Sistema Único de Saúde. Através deles, é possível entender o contexto familiar a partir de apenas um indivíduo e também sua família, além de entender suas relações com a comunidade. Dessa forma, qual o instrumento que utiliza uma representação gráfica para traduzir as relações familiares com a comunidade e sua rede de apoio?

- a) Genograma.
- b) SOAP.
- c) Ecomapa.
- d) Territorialização.
- e) Acolhimento.

34. De acordo com o Programa Nacional de Imunização, quais vacinas devem ser administradas para a criança com 3 meses?

- a) 2º dose da vacina Pentavalente e Pneumocócica.
- b) 1º dose da vacina Meningocócica C.
- c) 1º dose da vacina Pentavalente e 2º dose da vacina VIP.

- d) 2º dose da vacina VRH.
- e) 1º dose da vacina Tríplice Viral.

35. A Notificação Compulsória é a comunicação obrigatória às autoridades de saúde realizada por médicos, profissionais da saúde, responsáveis pelos estabelecimentos públicos ou privados, através do Sistema de Informação de Agravos e Notificação, (Sinan). Dentre as doenças, agravos e eventos de saúde pública descritos pelo Ministério da Saúde, qual não é contemplado para a notificação compulsória?

- a) Febre Amarela.
- b) Coqueluche.
- c) Sarampo.
- d) Leptospirose.
- e) Clamídia.

36. A prevenção primária foi estabelecida e organizada de forma a prevenir a evolução de doenças através de critérios e métodos bem estabelecidos. Das alternativas, qual contempla um instrumento de prevenção primária?

- a) Detecção e tratamento através do rastreio e diagnóstico precoce.
- b) Tratamento de complicações.
- c) Identificar e suspender a supermedicalização e não solicitar exames sem indicação estabelecida.
- d) Promoção da saúde através de medidas de bem-estar geral.
- e) Prevenir iatrogenias através da avaliação de risco e benefício.

37. Paciente busca a Atenção Primária devido a quadro de dor abdominal localizada em hipocôndrio direito. Durante o exame físico foi percebido que o mesmo apresentava icterícia e febre. Qual o nome dos achados expostos pela paciente e sua principal hipótese diagnóstica?

- a) Tríade de Charcot / Colangite Aguda.
- b) Sinal de Murphy / Colelitíase.
- c) Tríade de Reynolds / Coledocolitíase.
- d) Sinal de Giordano / Pielonefrite.
- e) Vesícula de Courvosier / Colangite Aguda.

38. Paciente de 7 anos foi trazido para consulta com queixa de tosse e obstrução nasal há 2 dias. Mãe nega febre, recusa alimentar, irritabilidade e demais queixas. Ao exame físico, bom estado geral, corado, hidratado, afebril, ativo, reativo, bulhas normorrítmicas e normofonéticas em 2 tempos, murmúrio vesicular presente sem ruídos adventícios, abdome flácido e indolor, perfusão preservada, otoscopia e oroscopia sem alterações. Qual a principal hipótese diagnóstica e a conduta a ser estabelecida?

- a) Solicitar radiografia de seios da face, orientar lavagem nasal e iniciar antibiótico.
- b) Solicitar hemograma completo, prescrever anti-histamínico e corticoide oral.
- c) Orientar lavagem nasal, incentivar ingestão hídrica e orientar sinais de alarme.
- d) Prescrever corticoide nasal, antitérmicos e orientar sinais de alarme.
- e) Solicitar radiografia de seios da face, prescrever antibióticos e antitérmicos.

39. Quais são os componentes propostos no Método Clínico Centrado no Paciente, utilizado como forma de estabelecer uma boa relação médico-paciente?

- a) Explorar a doença e a experiência da pessoa com a doença.
- b) Entender a pessoa e focar na queixa principal.
- c) Elaborar e instituir um plano sem considerar as prioridades do paciente.
- d) Fortalecer a relação médico-pessoa através da demonstração de conhecimento por termos técnicos.
- e) Explorar a doença e não deixar que o contexto do paciente interfira na proposta de tratamento.

40. O Outubro Rosa é um movimento internacional de conscientização sobre o Câncer de

Mama. A mamografia é o exame padrão-ouro de rastreio e, de acordo com o Ministério da Saúde, deve ser recomendado de qual forma para mulher assintomáticas e de baixo risco?

- a) De 30 a 60 anos com mamografia anual.
- b) De 45 a 75 anos com mamografia a cada 2 anos.
- c) De 50 a 69 anos com mamografia a cada 2 anos.
- d) De 50 a 69 anos com mamografia anual.
- e) De 60 a 75 anos com mamografia anual.

41. Homem de 28 anos com queixa de pirose e regurgitação há cerca de 5 meses, buscou atendimento há 8 semanas, quando iniciou tratamento com Omeprazol 20mg pela manhã, em jejum, devido a diagnóstico de DRGE. Na consulta, relata melhora dos sintomas, sem necessidade de uso diário do Omeprazol. Trouxe consigo o laudo de uma endoscopia realizada no início do tratamento, evidenciando ulcera em corpo gástrico; não possui outras comorbidades. Qual a conduta a ser tomada?

- a) Solicitar nova endoscopia com biopsia de ulcera gástrica.
- b) Manter Omeprazol até completar 6 meses de tratamento.
- c) Suspender Omeprazol e solicitar retorno se recidiva dos sintomas.
- d) Suspender Omeprazol e orientar alta.
- e) Repetir EDA apenas se sintomas persistirem.

42. Homem de 66 anos, busca atendimento na Atenção Primária com queixa de dor intensa em 1º pododáctilo há cerca de 2 dias, evoluindo com piora progressiva da dor e edema local. Refere ser hipertenso e etilista de longa data com ingestão de 5 latas de cerveja por dia, há cerca de 25 anos. Qual a principal hipótese diagnóstica?

- a) Artrite Reumatoide.
- b) Trauma local.
- c) Crise de gota.
- d) Infecção.
- e) Lúpus Eritematoso Sistêmico.

43. De acordo com as Diretrizes de Insuficiência Cardíaca, paciente apresentando edema de membros, estertores pulmonares e hepatomegalia com extremidades quentes e perfusão preservada se enquadra em qual perfil hemodinâmico?

- a) Perfil A.
- b) Perfil B.
- c) Perfil C.
- d) Perfil D.
- e) Perfil L.

44. Paciente apresentando pirose e regurgitação há cerca de 6 meses, com piora após consumo de alimentos industrializados e frituras; apresenta teste da urease positivo. Qual o tratamento de escolha?

- a) Levofloxacino 500mg, Claritromicina 500mg e IBP em dose plena de 12/12h, por 14 dias.
- b) Amoxicilina com clavulanato 450+50mg e IBP em dose plena de 12/12h, por 14 dias.
- c) Amoxicilina 1g, Claritromicina 500mg e IBP em dose plena de 12/12h, por 7 dias.
- d) Azitromicina 500mg, Ciprofloxacino 500mg e IBP em dose plena de 12/12h, por 7 dias.
- e) Amoxicilina 1g, Claritromicina 500mg e IBP em dose plena de 12/12h, por 14 dias.

45. Mulher de 68 anos, tabagista há cerca de 6 anos, apresentando tosse produtiva associada a episódios de febre vespertina, sudorese noturna e dispneia há cerca de 2 meses. Nega febre, cefaleia, alterações urinárias. Qual a principal hipótese diagnóstica?

- a) Asma crônica.
- b) Insuficiência cardíaca.
- c) Menopausa.
- d) Tuberculose pulmonar.

e) Pneumonia.

46. Paciente vem para consulta apresentando resultados de sorologia para Hepatite com os seguintes achados: HbsAg positivo, HBeAg positivo, anti-HBc IgM positivo, anti-HCV negativo, anti-HAV negativo. Qual o diagnóstico?

- a) Hepatite A aguda.
- b) Hepatite B aguda.
- c) Hepatite B crônica.
- d) Hepatite C aguda.
- e) Hepatite C crônica.

47. Paciente de 24 anos apresentando queixa de febre há 3 dias associada a náuseas, vômitos, dor lombar e disúria. Ao exame físico, sinal de Giordano positivo à direita, exame de urina com piúria e leucocitúria. Qual a principal hipótese diagnóstica?

- a) Cistite.
- b) Pancreatite.
- c) Apendicite.
- d) Colecistite.
- e) Pielonefrite.

48. Mãe traz filho de 12 anos, referindo que o mesmo vem apresentando cansaço excessivo e dor de cabeça. Relata que o mesmo possui muita dificuldade para se alimentar, com baixa ingestão de proteínas. Você solicita um hemograma para avaliação e recebe os seguintes resultados: anêmica microcítica hipocrômica com aumento do RDW e diminuição do ferro sérico e da saturação de transferrina. Qual a principal hipótese diagnóstica?

- a) Anemia Ferropriva.
- b) Anemia Megaloblástica.
- c) Anemia Falciforme.
- d) Esferocitose Hereditária.
- e) Mieloma Múltiplo.

49. Paciente de 58 anos trazido para consulta pela esposa devido episódios de constrangimento social, pois o mesmo foi acusado de importunação sexual, após sair de casa sem as roupas e proferir palavras de baixo calão a mulheres na rua. A mesma, relata que isso nunca havia acontecido antes e que, recentemente, já o observou várias vezes, andando sem roupas pela casa e ao tentar se comunicar, o mesmo tem dificuldade de expressar o que está acontecendo. Nega perda de memória. Qual a principal hipótese diagnóstica?

- a) Demência frontotemporal.
- b) Doença de Alzheimer.
- c) Demência Vascular.
- d) Hidrocefalia de Pressão Normal.
- e) Doença de Parkinson.

50. As DARMDs, (Drogas Antirreumáticas Modificadoras de Doença), são a primeira linha de tratamento para a Artrite Reumatoide. Qual das medicações fazem parte desse grupo?

- a) Metotrexato.
- b) Rifampicina.
- c) Quetiapina.
- d) Prednisona.
- e) Fluoxetina.

RASCUNHO.

